

2024年高三年级模拟考试(二)

文科综合能力测试

(考试时间:上午9:00—11:30)



注意事项:

1. 答题前,考生务必将自己的姓名、考试编号填写在本试卷相应的位置。
2. 全部答案在答题卡上完成,答在本试卷上无效。
3. 回答选择题时,选出每小题答案后,用2B铅笔把答题卡上对应题目的答案标号涂黑。如需改动,用橡皮擦干净后,再选涂其他答案标号。回答非选择题时,将答案用0.5mm黑色笔迹签字笔写在答题卡上。
4. 考试结束后,将本试卷和答题卡一并交回。

一、选择题:共35小题,每小题4分,共140分。在每小题给出的四个选项中,只有一项是符合题目要求的。

口袋公园是指将城市的废弃地、闲置地改造成规模小巧、环境友好的开放空间,一般由街角路边的小型绿地配套一定的休憩娱乐设施构成。如今,利用绿道(专为行人和非机动车提供慢行的连续通道)将多个口袋公园串连,已成为城市规划的新理念。据此完成1~3题。

1. 近年来,我国城市口袋公园的改造工程多集中在

A. 近郊区	B. 老城区
C. 高新区	D. 旅游景区
2. 与大型综合公园相比,口袋公园能有效

A. 缓解热岛效应	B. 改善旅游环境
C. 提升居住品质	D. 划分功能区域
3. 在“绿道+口袋公园”的周边适宜布局

A. 商业网点	B. 高级住宅
C. 行政部门	D. 中小学校

工业上楼是指企业在高层楼房中进行工业生产的新模式,这种高层楼房被称为“工业楼宇”。图1示意该模式的发展历程。继深圳、香港等地大规模推广该模式之后,越来越多的城市开始跟进。据此完成4~6题。

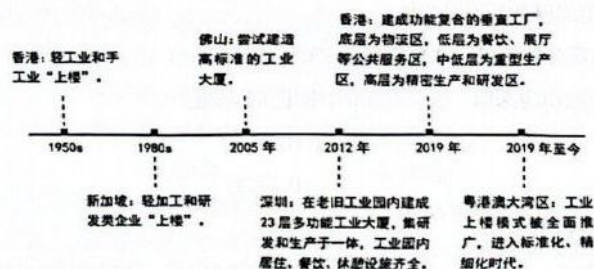


图1

4. 与传统厂房相比,早期工业上楼主要是为了

A. 共享基础设施	B. 提高产品质量
C. 缓解交通压力	D. 集约利用土地
5. 目前影响我国“工业楼宇”布局的主要因素是

A. 政府政策	B. 劳动力素质
C. 销售市场	D. 工业联系
6. 工业上楼模式有利于

A. 形成产业集群	B. 增强业内竞争
C. 促进园区扩展	D. 缩短通勤时间

云南省西部腾冲市的北海(25°N, 98°E)为火山堰塞湖,湖面海拔近2000m,湖中漂浮有大片浮毯型草甸(图2)。北海浮毯型草甸由多种水生植物构成,大多厚度为20~50cm,其上草长莺飞,生机盎然。据此完成7~9题。



图2

7. 北海浮毯型草甸生长所需的养分最初来源于

- A. 火山熔岩流 B. 湖面火山灰
C. 湖中沉积物 D. 水生动植物

8. 北海浮毯型草甸深厚的原因是当地

- ①气温低,腐殖质分解缓慢 ②空气稀薄,光照条件较好
③水流缓,湖中沉积物深厚 ④气候湿润,水生植物茂盛

- A. ①② B. ③④
C. ②③ D. ①④

9. 北海浮毯型草甸利于

- ①增加湖区降水量 ②维护生物多样性 ③净化湖水水质 ④增加湖水蒸发量

- A. ①② B. ②③
C. ③④ D. ①④

嘉陵江支流涪江某河段(自北向南流)枯水期时右侧河床基岩裸露,在厚度不足1米的砂岩表层分布有数量众多、形态各异的凹坑、石洞,宛如一幅石版浮雕长卷沿江徐徐展开(图3)。浮雕长卷面积超过10万平方米,南侧砂岩下的泥岩出露明显。据此完成10~11题。



图3

10. 石版浮雕长卷形成的外部条件主要是

- ①河谷狭窄幽深 ②河谷宽阔平缓 ③流水下切强烈 ④流水下切较缓

- A. ①④ B. ①③
C. ②③ D. ②④

11. 石版浮雕长卷南侧泥岩出露的原因是

- A. 泥岩遭受侵蚀 B. 地壳缓慢下降
C. 砂岩遭受剥蚀 D. 泥岩不断发育

12. 2024年《政府工作报告》指出,要深入贯彻总体国家安全观,加强国家安全体系和能力建设。提高公共安全治理水平,推动治理模式向事前预防转型……强化社会治安整体防控,建设更高水平的平安中国。由此可见,维护国家安全和社会稳定

- ①是统筹发展和安全推进中国式现代化的需要
②是党领导人民建设新的伟大工程的具体体现
③是我国以历史主动精神积极进行的伟大斗争
④为发展中国特色社会主义开辟了崭新的路径

- A. ①② B. ①③ C. ②④ D. ③④

13. “七个着力”是习近平总书记对宣传思想工作作出的重要指示,是习近平文化思想的重要内容:着力加强党对宣传思想文化工作的领导,着力建设具有强大凝聚力和引领力的社会主义意识形态,着力培育和践行社会主义核心价值观,着力提升新闻舆论传播力引导力影响力公信力,着力赓续中华文脉、推动中华优秀传统文化创造性转化和创新性发展,着力推动文化事业和文化产业繁荣发展,着力加强国际传播能力建设、促进文明交流互鉴。贯彻落实“七个着力”有利于

- ①奠定民族复兴的物质基础,不断标注文化建设和文明发展新高度
②坚持党管宣传和意识形态,确保新时代思想文化工作的正确方向
③利用现代化大众传播媒介,为民族复兴营造良好的国际舆论环境
④继续坚持以文化产业为重点,更好满足人民群众多元化文化需求

- A. ①② B. ①④ C. ②③ D. ③④

14. 推动冷链寄递高质量发展,是推进“快递进村”、农特产品上行和助力乡村振兴的着力点。近年来,寄递企业加快推动网络下沉,不断完善冷链服务功能,在生鲜产品寄递、助力农产品线上销售等方面取得积极成效。农村冷链寄递物流快速发展

- ①是快递行业增强现代农业服务能力的重要体现
②有利于推动构建产销贯通的现代乡村产业体系
③可以提高农产品运输时效缩短农产品流通半径
④有助于强化农业公益性服务功能助推乡村振兴

- A. ①② B. ①④ C. ②③ D. ③④

15. 图4是2020~2023年我国三大需求对经济增长的贡献率情况。由图可知我国

- ①积极促消费扩投资,内需支撑作用明显增强
②市场主体持续发力,财政政策效应持续显现
③超大规模市场优势凸显,对外贸易增速放缓
④必须统筹推进改革开放,防范化解外部风险

- A. ①③ B. ①④
C. ②③ D. ②④



图4

16. 地铁提前5分钟打开闸机,引导菜农有序进站;工会“爱心驿站”为户外劳动者免费提供休息热饭的地方;企业捐资创办“幸福食堂”,让老年人食有所依;政务服务“一网通办”,便利群众办事创业……C市的一系列便民举措让城市的高度在拔节,更让城市的温度在升温。这些举措体现了该市

- ①创新机制,发挥基层自治新优势 ②严格执法,推动公共服务精细化
③人民至上,关注群众利益与诉求 ④多元共治,增强社会治理聚合度
A. ①② B. ①④ C. ②③ D. ③④

17. 教育援藏启动以来,17个省市援藏团队以“一张蓝图绘到底,一茬接着一茬干”的韧劲,累计派出两千多名教育援藏人才,以“组团”方式对口支援西藏学校,使教育援藏成为西藏教育事业改革发展的关键一招,促进了西藏经济社会的高质量发展。由此可见我国

- ①全面加强依法治藏工作,社会主义民主建设不断加强
②赓续推进公共文化事业,教育援藏有力促进西藏发展
③夯实地区教育事业基础,民族区域自治制度全面实施
④持续巩固民族团结进步,党的治藏方略实践已显成效
A. ①③ B. ①④ C. ②③ D. ②④

18. 漫画《人生都有低谷,它的好处是:只要前行,就是上坡》(作者:王家春)启示我们要

- ①充分利用真理的条件性,遵从内心做好人生规划
②科学把握实践的能动性,实干进取走出人生低谷
③积极发挥意识的创造性,砥砺自我超越人生阶段
④正确认识矛盾的统一性,克服困难实现人生价值



- A. ①② B. ①③ C. ②④ D. ③④

19. 某地植物园中的药草园,是华北地区收集中草药种类较多的专类园。这里既可以进行科学研究、教学实习,又能开展科普教育、园艺观赏,深受市民欢迎。园中收集的每味草药,都蕴藏着大自然的恩泽与古人的智慧,默默为人类的健康保驾护航。植物园专设药草园旨在

- ①让传统文化“兴”下去,为中医中药研究提供丰富的实物材料
②让人类文明“展”出来,挖掘中草药精髓普及传播中医药文化
③让中华文化“走”出去,增强对中医中药传统文化的国际认同
④让历史文化“活”起来,以实现中草药的经济价值为核心要求

- A. ①② B. ①④ C. ②③ D. ③④

20. 2023年11月1日,我国第22个、实施范围最大的自贸区——中国(新疆)自由贸易试验区揭牌,这是在西北沿边地区设立的首个自贸试验区,包括乌鲁木齐、喀什、霍尔果斯三个片区。新疆“入群”自贸试验区有助于

- ①重塑世界经济贸易规则,维护全球多边贸易的体制
②更好发挥新疆区位优势,推进自贸试验区总体布局
③打造我国沿边交流平台,完善高水平区域开放体系
④构建多元稳定经贸关系,逐步扩大对外投资的规模

- A. ①② B. ①④ C. ②③ D. ③④

21. 2024年3月,联合国安理会就美国提出的关于巴以问题的决议草案进行表决,中国投了反对票。中方表示,安理会最迫切需要采取的行动是推动立即实现无条件、持久的停火,而美方草案为停火设置了前提,阻碍了和平解决巴以问题进程。中方将继续为实现巴勒斯坦问题全面公正持久解决发挥负责任、建设性作用。这表明

- ①联合国安理会负有维护国际和平与安全的主要责任
②各国应以全球和平为出发点支持联合国的各项决议
③中国坚持独立自主立场努力推动和平解决国际争端
④促进世界的和平与发展是我国外交政策的首要目标

- A. ①② B. ①③ C. ②④ D. ③④

22. 超级IP“奥特曼”的著作权人将奥特曼系列形象的著作权和维权权利授权给A公司。B公司未经许可,使用AI技术生成与奥特曼系列形象实质性相似的图片,且通过销售会员充值等服务攫取非法收益,给A公司造成严重损害。A公司遂起诉B公司。此案例中

- ①AI生成的图片属于电子产品,A公司不享有其著作权
②B公司侵害了A公司对“奥特曼”的复制权和改编权
③B公司的行为属于作品合理使用,但应给A公司付费
④当作品著作权保护期满后,任何公司都可以免费使用

- A. ①② B. ①③ C. ②④ D. ③④

23. 在作品“你要写春节,就不能只写春节”(见右图,文章有节选,作者:刘强)中,作者运用了

- ①形象思维,以丰富的具象生动描写了春节
②逆向思维,用不写春节的方式反衬了春节
③发散思维,围绕春节主题进行思维的扩展
④联想思维,在春节的想象中建立客观联系

- A. ①③ B. ①④ C. ②③ D. ②④

你要写春节,就不能只写春节
要写寒冬腊月,朔风凛冽
写几场纷飞的瑞雪,作为兆丰年的注解
写千山鸟飞绝,银装素裹的世界
你要写春节,就不能只写春节
要写腊八过后,年味就渐渐热烈
写恭喜发财的音乐,热闹了好几条街
写集市里的商品陈列,什么都不缺
你要写春节,就不能只写春节
要写离家在外的人,渴望回家的心切
写乘坐飞机或是高铁,山海跨越
写奔波的脚步可以暂歇,近乡情更怯
……

24. 史料记载,商汤在讨伐夏桀的战争中宣称“有夏多罪,天命殛之”;盘庚在强迫臣民迁都的时候也说,“天其永我命于兹新邑,绍复先王之业,底绥四方”。这说明当时

- A. 祖先崇拜成为统治工具
B. 借助宗教进行国家治理
C. 中央集权体制初步萌芽
D. 天命观念影响政治运作

25. 图5为某学者绘制的汉代敦煌郡邮驿示意图。这反映出汉代

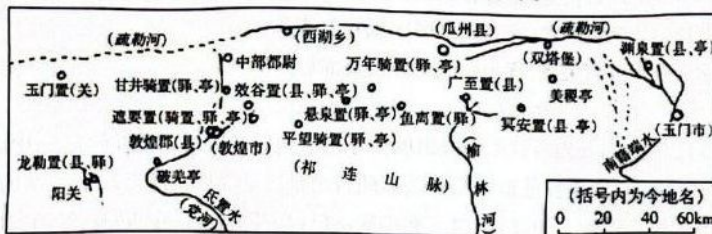


图5

- A. 建立了全国性的信息传播系统
B. 加强了对河西走廊的有效管辖
C. 中西方经济文化交流较为频繁
D. 郡国并行制已被郡县制所取代
26. 公元743年,陕郡太守韦坚开凿广运潭,沟通关中诸渠,以通山东租赋。建成之后,他准备了二三百艘船,分别标示各郡之名,陈列本郡土特产,如广陵郡(今江苏扬州)的锦、海味;南海郡(今广东广州)的真珠、象牙;豫章郡(今江西南昌)的瓷器、酒器、茶具等,这支庞大的船队接受了唐玄宗的检阅。这反映了当时
- A. 经济重心南移已经完成
B. 专业的工商业市镇兴起
C. 区域经济交流初具规模
D. 农产品商品化程度提高
27. 据统计,道光时代,广州附近有2500个纺织工场,工人约五万,平均一个工场约20人;又有一个制茶场,有男女工童工500人。这说明
- A. 洋务运动推动了近代企业发展
B. 雇佣劳动在当时已经比较普及
C. 中国丝绸茶叶的海外市场广阔
D. 中国社会孕育着新的生产方式
28. 甲午战争前,郑观应提出,君民共主之国“育才于书院,论政于议院,君民一体,上下同心,此其体;练兵、制器械、铁路、电线等事,此其用。中国遗其体效其用,所以事多扞格,难臻富强”。这一主张
- A. 突破了“中体西用”的束缚
B. 深受美国民主制度的影响
C. 反映出革命思潮成为主流
D. 意在唤醒国人的救亡意识
29. 19世纪末20世纪初,西方会计机构出现在上海等城市的租界内,主要服务于外商。1936年,会计师业务逐渐兴盛,他们不仅创办了《立信月报》等专业刊物,刊发大量文章,还出版了税法解释及纳税指南一类的书籍。近代会计业的发展
- A. 导致半殖民地程度加深
B. 推动了大众传媒的创新
C. 保障了民族工业的发展
D. 适应了经济转型的需要

30. 1933年,中华苏维埃政府严厉批评各地俱乐部的工作,认为俱乐部组织不健全,墙报内容不能把党的中心任务与群众实际生活联系起来;晚会演出缺乏政治性,有些地方只做老戏、打花鼓、唱京调。这说明中华苏维埃政府

- A. 推动地方文艺事业的繁荣
B. 转变了革命工作重心
C. 重视意识形态的管理工作
D. 面临的军事压力减轻

31. 1995年,一项针对江苏昆山、浙江乐清部分农民(近60%为18~35岁的青壮年)的调查显示,面对重新选择职业意向这一栏目,35.2%的农民选择经商,31.8%的农民选择读书上大学,仅有8.5%的农民选择继续种田。农民重新选择职业的意向

- A. 提高了广大农民的文化水平
B. 反映了就业观受时代的影响
C. 表明了市场经济体制的确立
D. 推动了多种所有制经济发展

32. 研究表明,公元前225年,意大利的总人口约为400万,而奴隶约有60万,约占总人口的15%。到公元前31年,意大利的总人口约为600万,而奴隶人口则达到200万,约占全部人口的33%。这一变化

- A. 反映了罗马对外扩张的现实
B. 直接导致罗马帝国的灭亡
C. 激化了贵族与平民间的矛盾
D. 推动罗马法律走向万民法

33. 1543年,波兰科学家哥白尼发表《天体运行论》,提出“太阳中心说”,建立起一种新的宇宙观;同一年,尼德兰医生维萨留斯发表《人体构造论》,论述了人的骨骼、肌肉、血液、神经等7大系统,是解剖史上的里程碑。二者都

- A. 为现代科技革命准备了条件
B. 体现了理性主义的思维方式
C. 为文艺复兴运动奠定了基础
D. 用实验方法进行了科学验证

34. 1796年,英国下议院的议员中有120名是贵族或贵族子孙,占下议院总人数的21%,还有数百人与贵族有亲戚关系,或者是在贵族的赞助下当选的,二者加在一起,超过全院人数的70%。据此可知,当时英国

- A. 民主改革势在必行
B. 保守势力阻碍经济发展
C. 宪政制度尚未确立
D. 封建贵族控制国家权力

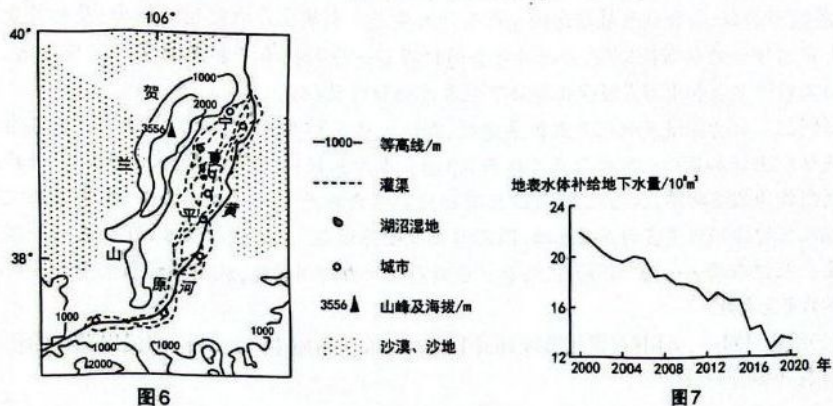
35. 1951年,联邦德国企业中雇员监事(从事企业监管工作)人数从2人扩大到全体监事的1/2,并在董事会设置工人经理,形成劳资对等共决模式。1976年后,对等共决模式被推广到更多企业。这种做法

- A. 体现了代议制民主的逐步完善
B. 表明工人阶级政治地位开始提升
C. 有助于战后联邦德国稳定发展
D. 有效解决了企业中劳资矛盾问题

二、非选择题:共160分。

36. 阅读图文资料,完成下列要求。(28分)

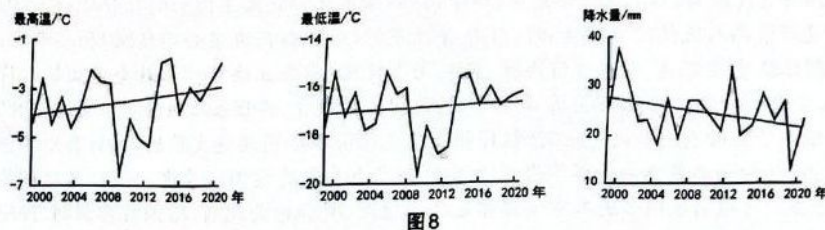
宁夏黄河灌区(图6)气候干旱,大小灌渠星罗棋布。灌区内引水渠广布,排水欠佳,湖沼众多。新中国成立后,当地对湖沼进行了大规模的排水垦殖。近年来,灌区推广精准灌溉、灌渠防渗漏改造等农业节水技术,湖沼萎缩严重。图7示意2000~2020年宁夏黄河灌区地表水体补给地下水量的变化。历史上宁夏平原灌渠溃决频发,水患严重。



- (1) 分析历史上宁夏平原水患严重的原因。(8分)
- (2) 分析宁夏黄河灌区湖沼众多的原因。(6分)
- (3) 推测近年来宁夏黄河灌区地下水位变化的趋势,并分析原因。(10分)
- (4) 简述黄河灌区地下水位变化给当地生态环境带来的主要影响及对人类的启示。(4分)

37. 阅读图文资料,完成下列要求。(28分)

蒙古国地处亚欧大陆内部,当地植被的返青期(即春季植被生长的开始日期)多出现在4月底到5月初,近年来该国植被返青期有明显的提前趋势。图8示意2000~2020年当地植被返青前(即上年11月—当年4月)最高温、最低温和降水量的变化,其中虚线表示变化趋势。



- (1) 描述2000~2020年蒙古国植被返青前气温变化的特点。(8分)
- (2) 说明2000~2020年蒙古国植被返青前气温变化导致植被返青期提前的原因。(6分)
- (3) 研究发现,临近植被返青期时,蒙古国最高温升高会推迟返青期,最低温升高则会使返青期提前,试分析原因。(8分)
- (4) 有观点认为蒙古国植被返青前图示气候变化可减弱沙尘暴的频率和强度。你是否认同,请说明理由。(6分)

38. 阅读材料,完成下列要求。(12分)

“一个案例胜过一打文件”,作为人民法院的重要“法治产品”,司法案例以“动态法”的姿态弥补“静态法”的不足,以数个“个案正义”促成“整体正义”,用小故事讲清大道理,是法治建设的深刻印迹。

2024年2月27日,人民法院案例库(以下简称“案例库”)正式上线并向社会开放,案例库收录的是经最高人民法院审核的3711件指导性案例(司法部门办案必须参照)和参考案例。这些案例依法查清事实、精准适用法律、强化文书说理,符合立法精神和社会主义核心价值观;基本实现了对盗窃罪、诈骗罪等常见罪名,民间借贷纠纷、婚姻家庭纠纷等多发案由的“全覆盖”;编发了民营企业产权、知识产权保护等聚焦经济社会高质量发展的案例;集中了惩治网络暴力、维护食品药品安全等事关民生及社会广为关注的案例。学者、律师、各类调解组织、社会公众可以通过网络进入案例库学习法律规定、明确行为规则、增强行为预判,促进矛盾纠纷前端化解,也可以推荐案例入库。

结合材料,运用《政治与法治》的相关知识,阐述人民法院案例库正式上线并向社会开放的意义。

39. 阅读材料,完成下列要求。(10分)

“全球南方”不是单纯的地理概念或经济概念,而是新兴市场国家和发展中国家基于相似历史境遇、现实发展阶段、共同发展目标、相同政治诉求而形成的身份认同。近年来,“全球南方”占世界经济的比重已提升到40%以上,在全球治理体系变革中扩大了国际影响力。

二战后,南方国家经济发展相对落后,在国际经济利益分配格局中处于不利地位;少数发达国家把控国际议程设置权和规则制定权,南方国家关切的发展问题在国际议程中被边缘化;个别发达国家将文明差异作为煽动意识形态对立和干涉他国内政的工具,对全球南方国家的发展道路指手画脚。

作为“全球南方”的一页,中国先后提出全球发展倡议、全球安全倡议、全球文明倡议,搭建了“一带一路”合作平台,为国际社会应对和平赤字、发展赤字、安全赤字、治理赤字贡献了中国智慧。

某班举行“百年变局中‘全球南方’的破局之路”主题讨论。结合材料,运用《当代国际政治与经济》的相关知识,请你以中国代表的身份撰写一篇发言提纲。(要求:切合主题,论证充分,逻辑清晰,学科术语使用规范)

40. 阅读材料,完成下列要求。(20分)

发展新质生产力是推动高质量发展的内在要求和重要着力点。

材料一 面对世界新一轮科技革命和产业变革带来的机遇挑战,习近平总书记结合我国生产力发展现状和实践要求指出“高质量发展需要新的生产力理论来指导”,“新质生产力已经在实践中形成并展示出对高质量发展的强劲推动力、支撑力”,继而提出新质生产力的概念:新质生产力是创新起主导作用,摆脱传统经济增长方式、生产力发展路径,具有高科技、高效能、高质量特征,符合新发展理念的先进生产力质态。新质生产力理论的提出,是对马克思主义生产力理论的创新性发展,为新时代全面把握新一轮科技革命和产业变革突破方向,全面推动高质量发展和中国式现代化提供了根本遵循和行动指南。

材料二 大力推进现代化产业体系建设,加快发展新质生产力,多个省份提出了各自的发展规划。上海加快建设现代化产业体系,推动重点产业链高质量发展;广东省将推进产业科技创新作为战略之举、长远之策,打造具有全球影响力的产业科技创新中心;北京市海淀区凭借在人工智能领域坚实的产业基础,围绕基础软硬件设施、关键核心技术、行业应用等环节进行全产业链布局……向“新”而行,培育发展新质生产力的新动能,我国推动高质量发展必将取得新的更大成效。

(1)结合材料一,运用《逻辑与思维》的相关知识,说明新质生产力理论的提出蕴含的科学思维智慧。(10分)

(2)结合材料,运用联系的多样性知识,分析我国应如何通过发展新质生产力推动高质量发展。(10分)

41. 阅读材料,完成下列要求。(10分)

李某是某公司职员,该公司《员工手册》《考勤管理规定》(经公司内部民主程序通过,内容合法)均规定:“迟于规定时间20分钟内打上班卡为迟到,早于规定时间20分钟内打下班卡为早退……一年内累计旷工三天的,视为严重违反公司规章制度,公司有权解除劳动合同。”公司向李某发放了《员工手册》,将《考勤管理规定》向全体员工公示。

2024年1月至3月,由于住址离公司很近,李某多次在家中打卡。公司查看门禁记录发现李某疑似迟到20次,其中20分钟以上10次,早退15次,其中20分钟以上6次,3月8日至12日没有打卡和门禁记录。对此门禁记录李某表示认可,且不能证明其外出工作情况。据此,公司解除了与李某的劳动合同。

李某不服,认为公司滥用单方解除权。经劳动仲裁后,李某向法院提起诉讼,要求公司撤销解除劳动合同关系的决定。

注:滥用关于违反劳动纪律或用人单位规章制度的单方解除权是指在没有企业规章制度,或者规章制度违法,或者规章制度没有公示,或者违纪行为轻微的情况下,以劳动者严重违反劳动纪律或用人单位规章制度为由,解除与劳动者的劳动合同。

结合材料,运用《法律与生活》的相关知识,说明法院是否会支持李某的主张并说明理由。

42. 阅读材料,完成下列要求。(25分)

材料一 奥巴马政府于2010年通过支持新一代非洲领导人,在关键领域建立享有盛誉的领导人网络,巩固美非间的紧密联系,并在非洲提供后续领导机会,加强输出美式民主制度和刺激非洲经济增长。2022年美非峰会期间,拜登举办了非洲和侨民青年领袖论坛,有意打造全球性网络增进美非伙伴关系。他强调提升与非洲侨民参与度的伙伴关系,并在论坛期间宣布成立了有关非裔侨民参与的总统咨询委员会。该委员会由来自非裔美国人和非裔移民社区的多元代表组成,将在此后加强美国官员与非裔侨民之间的对话,鼓励促进美国非裔侨民的公平和机会,并加强非洲社区、全球非裔侨民和美国之间的文化、社会、政治和经济联系。美国副总统哈里斯也宣布,美国政府计划在未来几年内向“非洲青年领袖倡议”提供超过一亿美元的资助,“用以支持寻求创新、多样化的非洲青年男女在21世纪的经济中脱颖而出,并促进非洲社区、国家和大陆的变革”。

——摘编自IIAS《从宣传战到文化外交:美国对非“青年领袖计划”的历史、现状及影响》

材料二 2021年11月,习近平主席在中非合作论坛第八届部长级会议上提出“构建新时代中非命运共同体”及“推动构建高水平中非命运共同体”的主张。非洲学生在中国参与培育各种中草药,学习实用的中医知识。还会体验书法、京剧、武术等艺术。中国通过支持孔子学院(或孔子课堂)和华文学校来普及汉语教育,并通过“汉语+职业技能+中华优秀传统文化”等多种教育形式,努力探索并进一步提升汉语的实用价值。目前,已有南非等不少非洲国家将汉语教学纳入到国民教育体系中。此外,中国充分发挥大众传播特别是新媒体的优势,加强了中非媒体合作,为非洲的汉语传播创造良好的舆论环境。埃塞俄比亚的“鲁班工坊”聚焦人工智能领域,目前已被非盟总部确立为中国面向非洲国家的高素质技能人才培养中心。

——据蔡建国《学好中华文化 促进中非交流》

(1)根据材料并结合所学知识,概括美国和中国对非洲文化政策的不同特点。(12分)

(2)根据材料并结合所学知识,分别评价美国和中国对非洲的文化政策。(13分)

43. 阅读材料,完成下列要求。(12分)

材料 表1 第二次世界大战后出现的世界史著作的三种体系

种类	版本	主要观点
第一种	苏联学者编写的13卷本《世界通史》	把主要国家、民族的历史都按照五种生产方式(即原始社会、奴隶社会、封建社会、资本主义社会和社会主义社会)的原则编写而成。
第二种	美国学者麦克尼尔所写的《西方的兴起》	世界历史的发展主要归功于各文明、文化之间的相互交流,而高技术地区向低技术地区的传播是其主要表现,因此世界历史的发展道路就是欧美文明的胜利进军。
第三种	中国学者吴于廑、齐世荣主编的6卷本《世界史》	世界史所研究的是世界历史的纵向发展和横向发展,即世界各民族、各地区的历史发展经历了由低级到高级的历程,这是纵向发展;而在发展过程中也相互作用,由相对孤立闭塞而走向紧密联系,这是横向发展。

——摘编自马克垚《困境与反思:“欧洲中心论”的破除与世界史的创立》

评析材料中的观点(任意一点或整体),得出结论。(要求:结论不能重复材料中观点,持论有据,论证充分,表述清晰。)

44. 阅读材料,完成下列要求。(15分)

材料 经过康熙、雍正和乾隆三朝的不懈努力,清廷完成了天山南北的统一大业,社会步入了和平建设阶段。与此同时,深受沙俄压迫的厄鲁特蒙古土尔扈特部众渴望重归故土。首领渥巴锡组成领导集体,精心策划,于乾隆三十六年(1771年)正月出发东行,近17万人的队伍走过冬春夏三季,以牺牲过半人口的代价,在当年到达祖国西北边陲的伊犁河畔。获知消息后,乾隆皇帝当即决定让渥巴锡等人前往避暑山庄朝觐。经过妥善安排,渥巴锡等58人启程朝觐,途经乌鲁木齐、哈密、大同、张家口等地,所到之处均受到当地的热情款待。到达承德避暑山庄后,乾隆皇帝立即召见,他直接用蒙古语同渥巴锡等人交谈,并带着渥巴锡一行到新落成的佛教寺庙拈香。此次朝觐最重要的活动是封赏渥巴锡等人,册封汗、亲王、郡王、贝勒、贝子、辅国公等爵位。封爵的成功,使以后清廷管理土尔扈特部众得到了有力支撑,也免除了土尔扈特人的内部消耗,为其社会的安定提供了保障。为纪念此事,乾隆帝谕令竖起两块巨大的石碑,用满、汉、蒙、藏四种文字铭刻他亲自撰写的《土尔扈特全部归顺记》和《优恤土尔扈特部众记》。

——摘编自郭美兰《东归土尔扈特首领赴避暑山庄朝觐凸显非凡意义》

(1)根据材料并结合所学知识,概括土尔扈特部得以回归的历史条件。(8分)

(2)根据材料并结合所学知识,简析土尔扈特首领赴避暑山庄朝觐的历史意义。(7分)