

太原市2024年高三年级模拟考试(三)

文科综合能力测试

(考试时间:上午9:00—11:30)

注意事项:

1. 答题前,考生务必将自己的姓名、考试编号填写在本试卷相应的位置。
2. 全部答案在答题卡上完成,答在本试卷上无效。
3. 回答选择题时,选出每小题答案后,用2B铅笔把答题卡上对应题目的答案标号涂黑。如需改动,用橡皮擦干净后,再选涂其他答案标号。回答非选择题时,将答案用0.5mm黑色笔迹签字笔写在答题卡上。
4. 考试结束后,将本试卷和答题卡一并交回。

一、选择题:共35小题,每小题4分,共140分。在每小题给出的四个选项中,只有一项是符合题目要求的。

旅居养老是候鸟式养老与度假式养老的融合体。老年人在不同季节,前往不同地方居住,一边旅游一边养老。乡村旅居养老是旅居养老的一种特殊形式,近年来,在我国呈现出由沿海向内陆扩展的趋势。据此完成1~3题。

1. 乡村旅居养老的空间发展趋势体现了我国沿海与内陆之间的

A. 经济水平差异	B. 自然条件差异
C. 人口密度差异	D. 年龄结构差异
2. 乡村地区成为旅居养老目的地的主要优势是

①环境优美	②文化活动丰富	③康养价值较高	④生活成本较低
A. ①②	B. ③④	C. ①③	D. ②④
3. 乡村旅居养老方式的普及能提高乡村地区的

A. 生活水平	B. 就业机会
C. 户籍人数	D. 环境质量

产业结构高级化是指由以劳动密集型产业为主的低级结构,向以技术密集型产业为主的高级结构转变的过程。人工智能可通过辅助或替代劳动力生产而促进产业结构高级化。下表是我国不同地区人工智能对产业结构高级化的促进作用,影响系数越大,促进作用越明显。据此完成4~6题。

地区	东部地区	中部地区	西部地区	东北地区
影响系数	0.9148	0.7757	0.6624	0.0328

4. 在产业结构高级化过程中,人工智能可提高

①劳动生产效率	②信息交流程度	③企业技术占比	④员工工资水平
A. ①③	B. ②④	C. ②③	D. ①④
5. 东部地区人工智能对产业结构高级化促进作用显著的原因是

A. 人口密度大	B. 资源储备多
C. 研发技术强	D. 开放程度高
6. 导致东北地区人工智能对产业结构高级化的促进作用远低于其他地区的主要因素是

A. 交通通信	B. 市场需求
C. 人才技术	D. 产业结构

横风(从车辆侧方吹来的风)易造成高速行驶车辆侧滑、侧翻等事故。宁夏处于多风地区,由横风引起的交通事故高达20%。图1示意宁夏高速公路横风路段风险等级分布。据此完成7~9题。

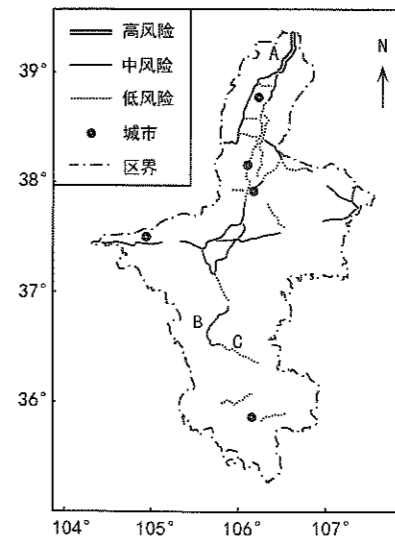


图1

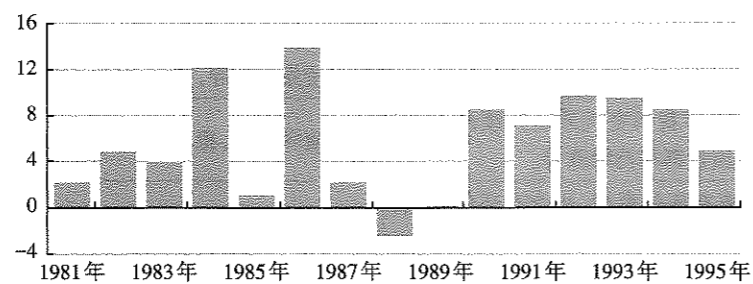
16. 米尔班·艾依提是中国铁路乌鲁木齐局集团有限公司“民族团结一家亲号”列车和特1组党支部书记、列车长,她大力推行双语服务,总结运用“贴心、舒心、暖心、细心、放心”的“五心”服务法,将“人民铁路为人民”的根本宗旨化为了具体行动。米尔班·艾依提的事迹启示共产党员要
- ①牢记使命,发挥好先锋模范作用 ②立党为公,坚持民族团结的原则
③勇于担当,全心全意为人民服务 ④执政为民,坚守人民至上的理念
- A. ①③ B. ①④ C. ②③ D. ②④
17. D社区党委加强社区“微治理”,在辖区进行了以“社区治理提升”为主题的“圆桌议事”,组织党建指导员、网格支部、物业党支部、业主委员会、居民代表等共同议事,有效整合各方资源,提升了社区治理效能。该社区党委
- ①不断完善社区治理,领导构建多元共治基层治理格局
②创建基层自治组织,保障居民直接行使各项民主权利
③强化党建引领作用,把党的组织优势转化为治理效能
④实施基层民主实践,激发居民参与国家管理的积极性
- A. ①② B. ①③ C. ②④ D. ③④
18. 约20亿光年外的宇宙深处,一颗“超级太阳”在燃料耗尽时坍塌爆炸,发出了伽马射线暴GRB 221009A,我国科研人员通过高海拔宇宙线观测站(LHAASO,简称“拉索”)首次完整监测到迄今最亮的伽马射线爆发全过程,刷新了人们对伽马暴的认知。这表明
- ①认识的发展是一个不断推翻前人认识的探索过程
②科研意识的转变程度决定了科研水平达到的高度
③充分发挥主观能动性是揭示宇宙奥秘的重要条件
④认识工具的进步推动着人类认识的不断深入发展
- A. ①② B. ①③ C. ②④ D. ③④
19. 2024年开年,“新中式”服装成为第一波火出圈的产品,某网购平台2个月内“新中式”搜索量同比增长超200%。“新中式”服装既包含了新时代的时尚、潮流元素,又巧妙融合中华传统服饰元素的韵味,成为“华服”新的打开方式。由此可见
- ①人民群众既是文化的创造者也是文化的享用者
②文化创新首先要挖掘优秀传统文化的经济价值
③传统文化在守正创新中能与时代发展同频共振
④吸收时尚潮流是传统文化不断发展创新的关键
- A. ①② B. ①③ C. ②④ D. ③④

20. 2023年11月,习近平主席在亚太经合组织工商领导人峰会上发表书面演讲时指出,“正如工商界朋友所言,中国已经成为最佳投资目的地的代名词,下一个‘中国’,还是中国,欢迎各国工商界朋友们继续投资中国、深耕中国!”这表明
- ①吸引外资是全球投资领域的重要趋势 ②中国愿积极同世界各国共享发展机遇
③国际社会对中国发展前景有坚定信心 ④中国成为全球先进生产要素配置中心
- A. ①② B. ①④ C. ②③ D. ③④
21. 2024年3月,香港《维护国家安全条例》(以下简称条例)刊宪生效。条例全面落实香港基本法、全国人大“5·28”决定及香港国安法所规定的宪制责任和义务,补齐了香港特区维护国家安全制度机制的漏洞和短板。这有利于
- ①完善香港治理体系,为实现由治及兴筑牢安全屏障
②有效维护国家安全,推动“一国两制”实践行稳致远
③更好统筹立法司法,充分发挥中央地方两个积极性
④充分发挥制度优势,维护我国单一制政权组织形式
- A. ①② B. ①③ C. ②④ D. ③④
22. 某地《养犬管理规定》有“携犬出户时,应当对犬束犬链,由成年人牵领”规定,李某在某小区让其7岁的儿子刘某遛犬。刘某遛犬时未避让行人,该犬将王某足部抓伤。双方协商赔偿未果,王某提起诉讼,请求李某、刘某赔偿医疗费、交通费等费用,李某提出异议。该案件
- ①刘某是限制民事行为能力人,无需承担责任
②应由李某赔偿王某的医疗费和交通费等损失
③公正判决有助于确立宠物饲养管理相关法律
④属于民事诉讼,李某与王某均应承担举证责任
- A. ①② B. ①③ C. ②④ D. ③④
23. 同学们在以“建设美丽中国,推进人与自然和谐共生的现代化”为主题的班级研讨中提出了自己的观点,运用《逻辑与思维》知识对这些观点分析正确的是

观点	分析
①只有毫不动摇坚持党的领导,美丽中国建设才能行稳致远。	这是必要条件假言判断,可以推出如果没有毫不动摇坚持党的领导,美丽中国建设就不能行稳致远。
②2021年至2023年我国空气质量持续改善,所以,往年的空气质量都在持续改善。	属于演绎推理,犯了“轻率概括”的错误。
③凡是学生都要有环保意识,小李有环保意识,所以小李是学生。	属于三段论推理,犯了“大项不当扩大”的错误。
④建设美丽中国既是最难的,也是最伟大的。	这是联言判断,启示我们要正确认识建设美丽中国的艰巨性和光荣性。

- A. ①③ B. ①④ C. ②③ D. ②④

24. 商朝时“王权神佑”的思想观念盛行,商贵族标榜天神是自己的祖先;西周在商朝的基础上提出了“敬天保民,以德配天”,并对天命观做出了“天命靡常”“惟命不于常”等新的解释。西周天命观念的变化反映了
- A. 人文精神植根久远的历史传统 B. 统治需要影响思想观念的嬗变
C. 反思夏商文化催生了民本思想 D. 早期国家治理强调政权合法性
25. 秦汉统治者在政治上不断迁徙打击各种扰乱乡里的社会势力,经济上防控土地兼并、扶持自耕农生产,意识形态上以儒家思想改造乡里社会风尚,社会治理上重视以法治民、以德化民。这表明秦汉统治者
- A. 注重乡里社会秩序的改造 B. 奉行儒法并用的理政思想
C. 实行休养生息的治国策略 D. 重视基层社会的自我更新
26. 西汉汜胜之汇录的《汜胜之书》,记录了以区田法为核心的耕作技术;宋代陈旉的《农书》,记述了土壤所宜以及积肥、施肥等提高地力的技术;元代王祯的《农书》,记述了大量农业工具。这些农书
- A. 得益于土地生产效率的提高 B. 表明国家组织力量的强大
C. 反映了农业精耕细作的特点 D. 意在推广先进的农业工具
27. 明洪武五年,琉球遣使“入朝”,明朝赐以《大统历》及文绮、陶铁器等,后“以陶器七万、铁器千就其国市马”。明政府与琉球的贸易
- A. 体现了朝贡贸易的特征 B. 深受闭关锁国政策影响
C. 推动了世界市场的发展 D. 促进新生产方式的发展
28. 洋务运动中后期,少数“官督商办”的民用企业发展为独立经营的商办企业。甲午中日战争前后,代表新的生产力的近代产业工人已达到20万人左右。这反映了
- A. 近代工业发展加速自然经济解体 B. 洋务企业实现了向民营企业转型
C. 民族资本主义经济获得初步发展 D. 自救变革促进晚清社会结构变动
29. 1931年,《中华苏维埃共和国宪法大纲》规定,苏维埃政权属于工人、农民、红军士兵及一切劳苦群众;但是在敌后抗战的困难时期,中国共产党通过“三三制”原则,各级政权机关的工作人员组成上,共产党员只占三分之一。这一调整
- A. 改变了政权革命性质 B. 削弱了国民党的力量
C. 发展了社会主义民主 D. 适应了革命形势需要
30. 图3是中国1981—1995年城镇居民人均可支配收入比上年增长(%)变化图。对此的合理解释是



- A. 对外开放全面走向世界 B. 现代企业制度逐步建立
C. 经济体制改革不断深化 D. 国民生产总值实现倍增

31. 公元410年,西哥特人攻占罗马城。奥罗修斯记载了西哥特人首领阿图尔夫说过的一段话:“最初,我强烈要求消除罗马这一名字……不过,众多经验告诉我:桀骜不驯的哥特人从不遵守法律,而没有法律的国家将国不成国。”据此可知,西哥特人
- A. 力图毁灭所有罗马文化 B. 吸收国家治理有效经验
C. 推动了罗马文明的复兴 D. 成为西方文明的开拓者
32. 17世纪,欧洲的贸易公司从印度购买棉纺织品,一部分棉纺织品被运回欧洲,供欧洲人消费。还有一部分被运往非洲用来购买奴隶,然后再将奴隶送到美洲的种植园中去劳动。据此可知,当时
- A. 欧洲成为世界贸易中心 B. 跨太平洋贸易发展迅速
C. 亚非拉地区沦为殖民地 D. 商品的世界性流动加强
33. 图4反映了1800年到2015年,城镇人口占世界总人口比例的变化情况。据此可知

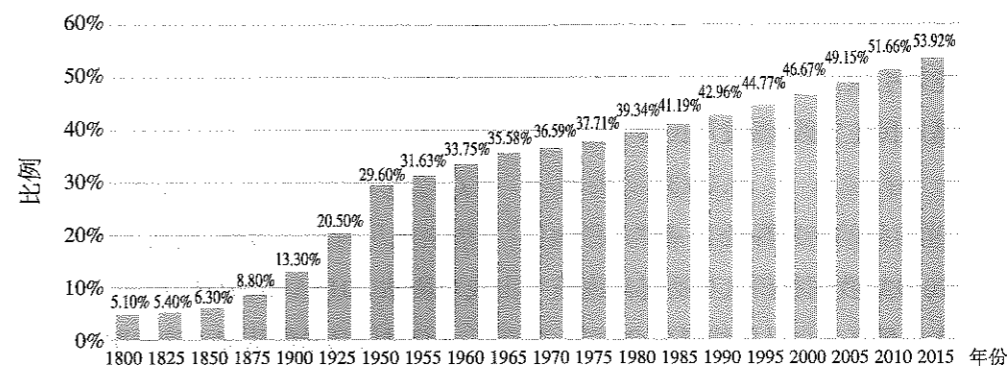


图4

- A. 城市居住环境逐渐恶化 B. 各国工业化进程加快
C. 各国工业发展差距缩小 D. 国家间贫富差距加大
34. 明治以前,受朱子学影响,日本思想界多批判王安石及其新法;明治时期,日本思想界赞扬王安石辅佐神宗,其取市易、青苗、均输等干涉主义手段,使国家握有利权,兴实利与人民,与当时泰西经济观念相同。这一变化反映了
- A. 历史解释深受时代背景的影响 B. 新史料的挖掘推动历史进步
C. 史学研究应不断调整研究方向 D. 政府加强对学术研究的指导
35. 欧盟以往对亚洲并不重视,致使其在亚洲的市场份额不如美、日。1994年7月,欧盟制定《亚洲战略》……1996年3月,欧盟与亚洲国家举行了没有美国参加的首届亚欧会议,并发表了《亚欧会议主席声明》,建设体制化的亚欧全面新伙伴关系。这表明欧盟
- A. 意在脱离美国的掌控 B. 重视第三世界的崛起
C. 顺应经济全球化趋势 D. 挑战美日的市场影响

二、非选择题:共160分。

36. 阅读图文资料,完成下列要求。(28分)

正蓝旗地处内蒙古锡林郭勒盟(图5),境内有常年性河流47条,大小湖泊62个,天然草场广阔,距北京直线距离约200千米。正蓝旗南部拟将一块63.5hm²的场地打造成集牧业生产、休闲度假、旅游观光、教育研学、亲子体验等多功能为一体的休闲观光牧场。图6示意该休闲观光牧场功能区规划,其中滨水娱乐区沿河岸拟种植喜湿植物以阻止河岸崩塌或冲刷。

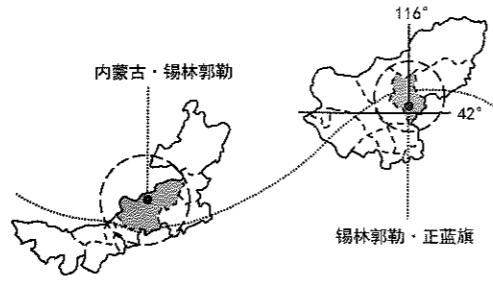


图5

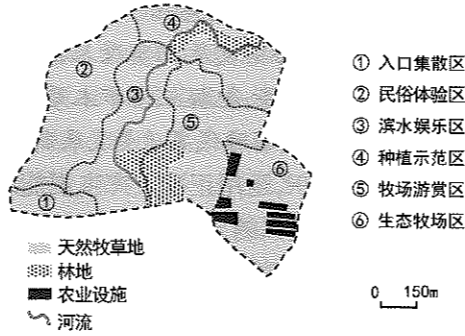


图6

(1)评价正蓝旗打造休闲观光牧场的优势和劣势。(10分)

(2)指出滨水娱乐区沿河岸种植喜湿植物的生态作用。(6分)

(3)比较生态牧场区与牧场游赏区中牧草地的功能差异,并指出生态牧场区中农业设施的名称。(6分)

(4)说明打造休闲观光牧场对正蓝旗发展的影响。(6分)

37. 阅读图文资料,完成下列要求。(28分)

草毡层是高寒草甸根系交织缠结而成的草毡状表层,富含腐殖质。祁连山南麓某地区(图7阴影部分)昼夜温差大,春秋季昼融夜冻,年降水量约580mm,且多集中于5~9月。当极重度放牧时(放牧量远远大于承载能力),适口性较强的牧草大量减少,地下部分(根系、块茎、根状茎等)占比大的莎草科植物成为优势种,生物量逐步向地下转移,新生根系向更深处生长,草毡层极度发育,导致深层土壤水分和养分供应不足。草毡层老化后,逐渐与土体剥离,土壤质量急剧降低。图8示意该地区放牧强度对草毡层厚度和持水能力(土壤中水分含量占土壤总体积的百分比)的影响。

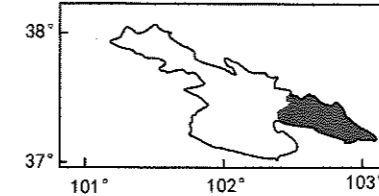


图7

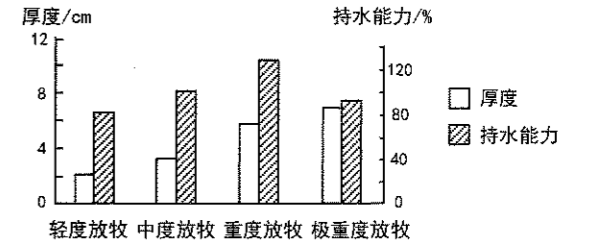


图8

(1)概括放牧强度与草毡层厚度、持水能力的关系。(6分)

(2)分析厚度适中的草毡层对土壤水分保持的作用。(4分)

(3)解释该地区极重度放牧导致土壤质量降低的原因。(8分)

(4)针对该地区土壤质量降低问题,提出有效措施。(4分)

(5)说明合理放牧对该地区发展的生态意义。(6分)

38. 阅读材料,完成下列要求。(12分)

粮食安全是国家安全的重要基础,党中央高度重视国家粮食安全工作。习近平总书记指出,必须全方位夯实粮食安全根基。

为贯彻落实党中央决策部署,国家发展改革委、国家粮食和储备局等有关部门深入总结十八大以来粮食安全领域改革成果,根据宪法初步制定了《中华人民共和国粮食安全保障法(草案)》。草案立足我国国情、粮情,构建了一套严密、科学、完整的粮食安全保障体系。全国人大常委会法制工作委员会将草案印发部分省(区、市)人大、全国人大代表、基层立法联系点等征求意见并在中国人大网全文公布草案,征求社会公众意见。

2023年12月29日,十四届全国人大常委会第七次会议表决通过《中华人民共和国粮食安全保障法》,自2024年6月1日起施行。

结合材料,运用《政治与法治》相关知识,分析《中华人民共和国粮食安全保障法》的制定过程是如何体现全面依法治国的。

39. 阅读材料,完成下列要求。(10分)

数字经济是全球经济未来发展的重要方向。2017年中国正式提出“数字丝路”倡议,成为推进“一带一路”框架下国际经贸合作的重要引擎,在助力共建“一带一路”国家和地区数字基础设施建设、弥合全球数字鸿沟、搭建数字对话机制等方面取得了一系列成就,对共建国家和全球数字经济发展做出重要贡献。截至2022年年底,中国已与17个国家签署“数字丝绸之路”合作谅解备忘录,与30个国家签署电子商务合作谅解备忘录,与18个国家和地区签署《关于加强数字经济领域投资合作的谅解备忘录》。2023年10月,第三届“一带一路”国际合作高峰论坛期间,包括中国在内的10余个国家共同发起了《“一带一路”数字经济国际合作北京倡议》,达成加强数字互联互通、推动工业数字化转型等20项共识。

在推动“数字丝路”建设的过程中,中国遵循共商共建共享的原则,强调开放包容和合作共赢,重视数字技术的安全和伦理,着力于防范数字风险,保护数字权益和隐私,努力推动数字公平和正义,推动建设网络空间命运共同体,为全球数字治理贡献中国力量。

结合材料,运用经济全球化的知识,阐明“数字丝路”建设中蕴含的中国担当。

40. 阅读材料,完成下列要求。(20分)

材料一 京津冀协同发展战略是我国进入新时代以来的第一个重大区域发展战略。推进京津冀协同发展的目标是“通过疏解北京非首都功能,调整经济结构和空间结构,走出一条内涵集约发展的新路子,探索出一种人口经济密集地区优化开发的模式,促进区域协调发展,形成新增长极”,思路是“坚持改革先行,有序配套推出改革举措”,方法是“放眼长远、从长计议,稳扎稳打、步步为营,锲而不舍、久久为功”。

十年来,从“谋思路、打基础、寻突破”到“滚石上山、爬坡过坎、攻坚克难”再到“坚定信心,保持定力”,京津冀协同发展扎实推进。京津冀三省市在中央有关部门和单位大力支持下,切实履行主体责任,把握三省市本质必然联系,做了大量卓有成效而又切合实际的工作,京津冀正在不断书写新时代高质量发展新篇章,打造中国式现代化建设的先行区、示范区。

(1)结合材料一,运用正确发挥主观能动性的知识,分析京津冀是如何打造中国式现代化建设的先行区、示范区的。(10分)

材料二 2024年2月,国务院举行新闻发布会,总结十年来京津冀协同发展取得的显著成就,提出未来十年要久久为功、善作善成,围绕解决北京“大城市病”的问题做好疏解工作,高标准高质量建设好北京“新两翼”——雄安新区和北京城市副中心,建设以首都为核心的世界级城市群,创新协同发展机制,不断增强区域内老百姓获得感、幸福感、安全感,推动京津冀协同发展迈上新台阶。

(2)结合材料二,运用超前思维知识,为京津冀协同发展迈上新台阶提出合理建议。(10分)

41. 阅读材料,完成下列要求。(10分)

Z中心是“L茶”地理标志证明商标权利人,专用权期限为2018年12月7日至2028年12月6日。

2019年5月,T公司从案外人某公司进口一批茶叶,在进关过程中擅自要求案外人某公司将标有“L茶”字样的中文标签贴在商品上,在销售宣传、商品包装上均称茶叶“产自Z中心所在地高海拔茶园”。S市知识产权局经过调查取证,根据商标法第五十七条第二项“未经商标注册人的许可,在同一种商品上使用与其注册商标近似的商标,或者在类似商品上使用与其注册商标相同或者近似的商标,容易导致混淆的,属于侵犯注册商标专用权的行为。”认为T公司使用“L茶”标识属于商标侵权行为,且该公司无法证明其具备使用“L茶”地理标志证明商标的条件,也无法证明涉案茶叶来源于“L茶”种植地域范围并具有相应品质,构成对注册商标专用权的侵害,依法没收标有“L茶”标识的茶叶1175盒,并处罚款50余万元。

T公司不服,向S市人民政府申请行政复议。S市人民政府审查后认为,T公司提出的复议理由于法无据,维持原判。T公司不服,诉至S市人民法院,请求撤销行政裁决。

结合材料,运用《法律与生活》相关知识,分析法院应该如何判决并说明正确判决该案件的典型意义。

42. 阅读材料,完成下列要求。(25分)

材料一 1405年至1433年间,明朝政府发起了七次大规模的海上探察系列活动,领导这些探察的是宦官郑和,郑和的每一次航行都带着一支令人敬畏的船队,辅以庞大的武装军队,可以镇压探险队所到达的任何港口出现的抵抗。在前三次的航海中,郑和率领他的船队到达了东南亚、印度和锡兰。第四次航行到达波斯湾和阿拉伯半岛,最南到达现在肯尼亚的马林迪。在整个旅行过程中,郑和随意把中国丝绸、瓷器和其他商品作为礼物散发出去。在返航时,他从东道主那里得到大量的、非同寻常的礼品,包括非洲的斑马和长颈鹿。郑和及其同伴尊重他们所遇到的当地神灵和风俗习惯。郑和通常通过外交手段来实现他的目标。……七次探察在印度洋盆地确立了中国人的地位和声誉。在他第四次返航时,郑和带来了30个国家的使节,他们来到中国,对明朝宫廷表示了敬意。

——摘编自【美】杰里·本特利、赫伯特·齐格勒《新全球史》

材料二 2013年9月,习近平主席在哈萨克斯坦纳扎尔巴耶夫大学提出了“五通”,即政策沟通、设施联通、贸易畅通、资金融通、民心相通。10年来,共建“一带一路”以基础设施的“硬联通”为重要方向,呈现出陆、海、天、网全面推进的态势。2013—2022年,中国与共建国家进出口总额累计19.1万亿美元,年均增长6.4%。自2015年成立以来,亚投行已从57个创始成员发展到来自六大洲的106个成员,成为成员数量仅次于世界银行的全球第二大国际多边开发机构。中国与共建国家在教育合作、文旅交流、媒体智库、民间交往等领域开展广泛地合作,与共建国家议会、政党、民间组织往来不断加强,拉近了共建国家人民的距离,促进民心相通水乳交融,在经济合作的同时实现了文明交流互鉴。

——摘编自蔡彤娟《“一带一路”十年成就与展望》

(1)根据材料一,概括郑和下西洋的特点。(8分)

(2)根据材料一、二并结合所学知识,指出相较于郑和下西洋,“一带一路”呈现出的新变化,并说明其影响。(13分)

(3)综合以上材料,谈谈这些区域交往带给我们的启示。(4分)

43. 阅读材料,完成下列要求。(12分)

材料 “中国”,是人类文明中延续最长久一个共同体。维系这个共同体的,不是靠单一的族群,不是靠单一的语言,不是靠单一的思想,不是靠单一的信仰,不是靠单一的文化。因能容纳,而成其大;因能调适,而成其久。维系“中国”这个观念的真正力量,可能来自以下三个方面:

第一,经济导致的互相沟通和互相依赖;

第二,皇权统治下依旧保持的上下流动;

第三,以视觉符号为基础的文字系统超越了语言的间隔,使得文化得以赓续。

这三个方面,使得中国的广土众民,始终保持着流动,始终促进着融合,中国文化只有逐渐的变化,而没有突然的断裂,使得“中国”的观念,可以长期保持。

——据许倬云《说中国:一个不断变化的复杂共同体》

从材料中提取历史信息,拟定一个论题,结合中国史知识予以论述。(要求:论题明确,持论有据,表述清晰)

44. 阅读材料,完成下列要求。(15分)

材料

时间	重大事件
2017年	美国政府税改,鼓励美资的跨国公司海外资金汇回国内,使得全球国际跨国投资规模下降
2017年	美国政府指责《巴黎协定》让美国背负不公平的经济代价,宣布退出全球应对气候变化的《巴黎协定》
2017—2019年	美国政府29次动用否决权,阻碍世界贸易组织上诉机构成员遴选,导致WTO争端解决机制逐步停摆
2018年	美国政府终止《北美自由贸易协定》,替代以《美国墨西哥加拿大协定》,加入了对美国有利的条款
2018年至今	美国政府宣布对中国进口的约600种美元商品加征关税,与中国的经贸摩擦不断升级

——摘编自陈东《区域一体化演变趋势与我国中长期应对策略》

(1)根据材料,指出美国政府出台这些政策的实质并分析其出台背景。(6分)

(2)根据材料并结合所学知识,分析美国政府实行这些政策的影响。(9分)